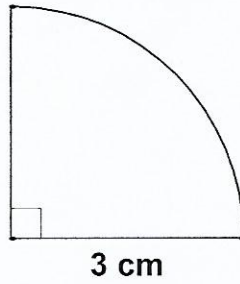


**FEUILLE D'EXERCICES : PÉRIMÈTRE DU CERCLE.**


**Exercice 1.**

Calculer le périmètre de la figure suivante :



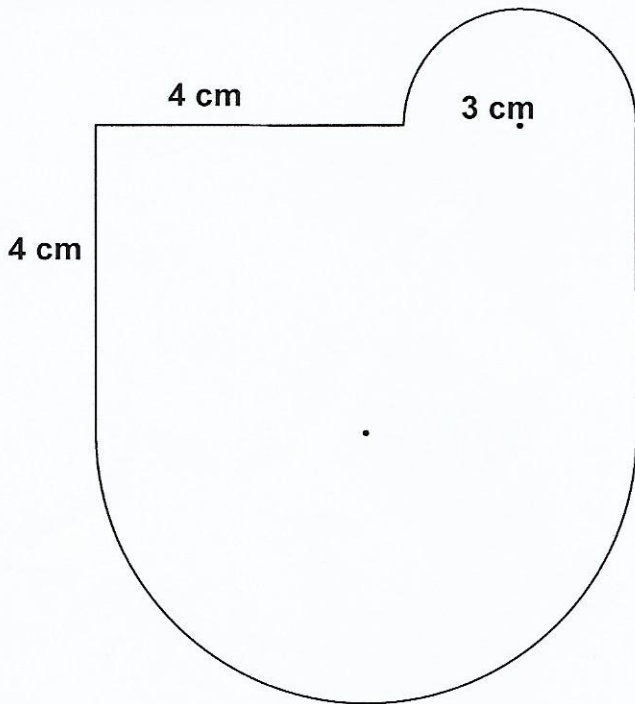
**Exercice 2.**

En prenant les mesures nécessaires, calcule le périmètre de la figure ci dessous.



**Exercice 3.**

Calcule le périmètre de la figure suivante :



**Exercice 4.**

Calcule le périmètre de la figure ci dessous qui n'est pas représentée en vraie grandeur :

