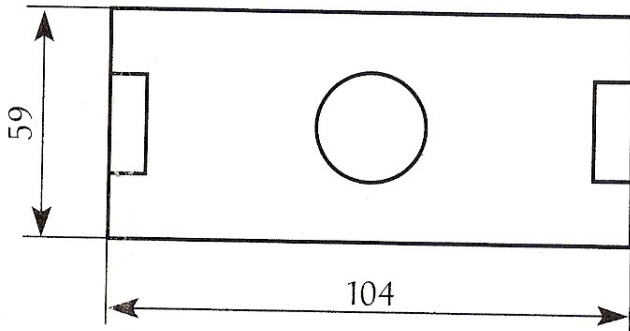


# Calcul de périmètre

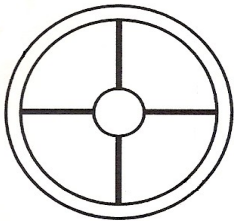
**Ex 1:**



Un terrain de sport est un rectangle dont la longueur mesure 104 m et la largeur mesure 59m.

**Calculer son périmètre.**

**Ex 2:**

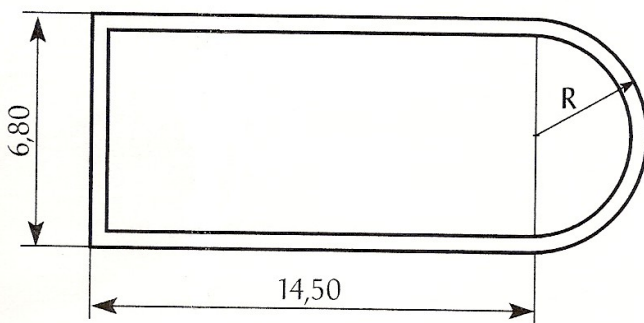


Une roue de bicyclette a un diamètre de 700mm.

**Calculer le périmètre de cette roue (longueur de la circonférence).**

**Exprimer le résultat à 0,01 près.**

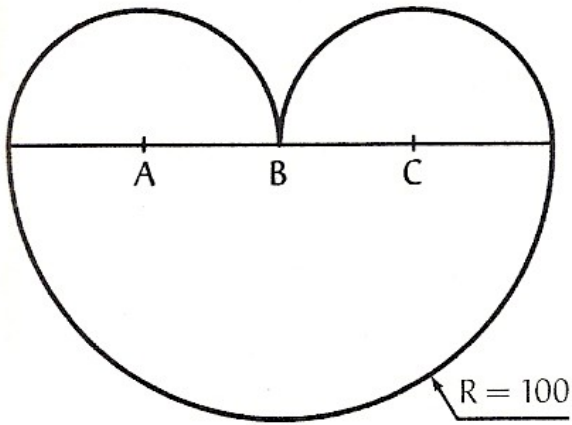
**Ex 3:**



Une maison est représentée par ce dessin (côtes en m).

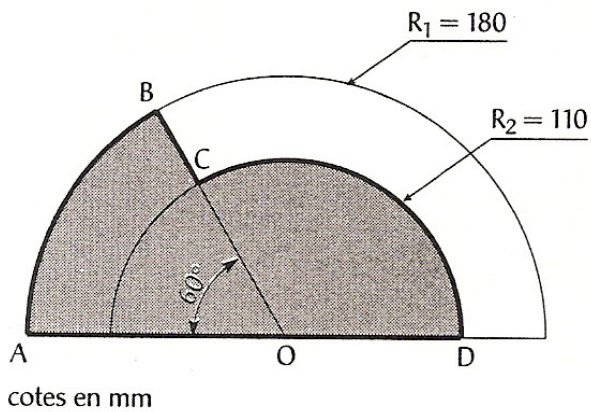
**Calculer le périmètre de cette maison.**

**Ex 4:**



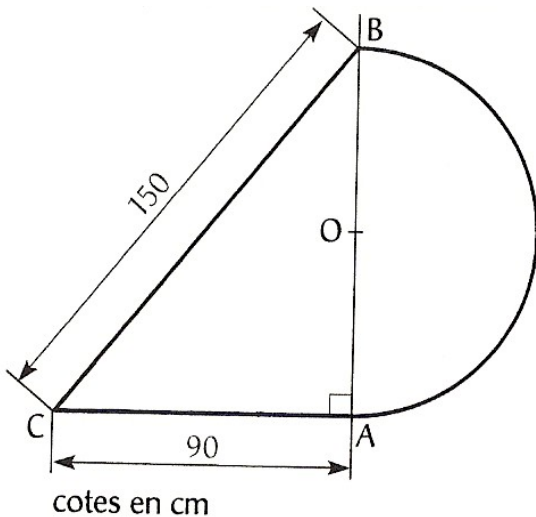
Une pièce est constituée de 3 demi-disques de centre A, B et C. Les 2 demi-disques de centre A et C ont le même rayon..  
**Calculer le périmètre de cette pièce.**

**Ex 5:**



**Calculer le périmètre de la pièce ABCD.**

**Ex 6:**



Une pièce métallique est représentée par le dessin ci-dessous :

**AB=120cm**

**Calculer le périmètre TOTALE de la pièce**